



ELEMENTOS SUSTENTANTES

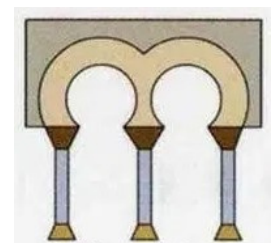

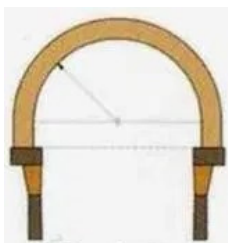


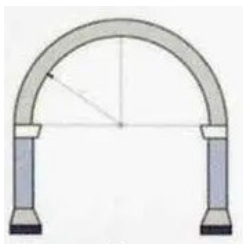
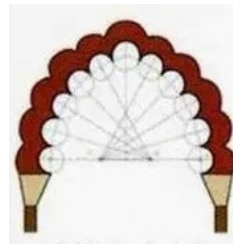
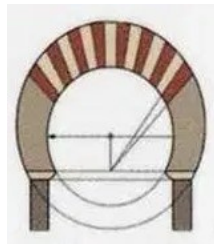
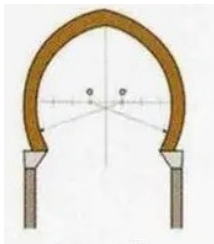
En la arquitectura se usan diferentes tipos de elementos sustentantes. En vuestra visita a la Alhambra investigaréis sobre algunos de ellos. Para un mayor conocimiento previo realiza las siguientes actividades:

1. Investiga sobre los elementos sustentantes, elabora una definición con tus propias palabras y señala los diferentes tipos que existen.

Los elementos sustentantes son....

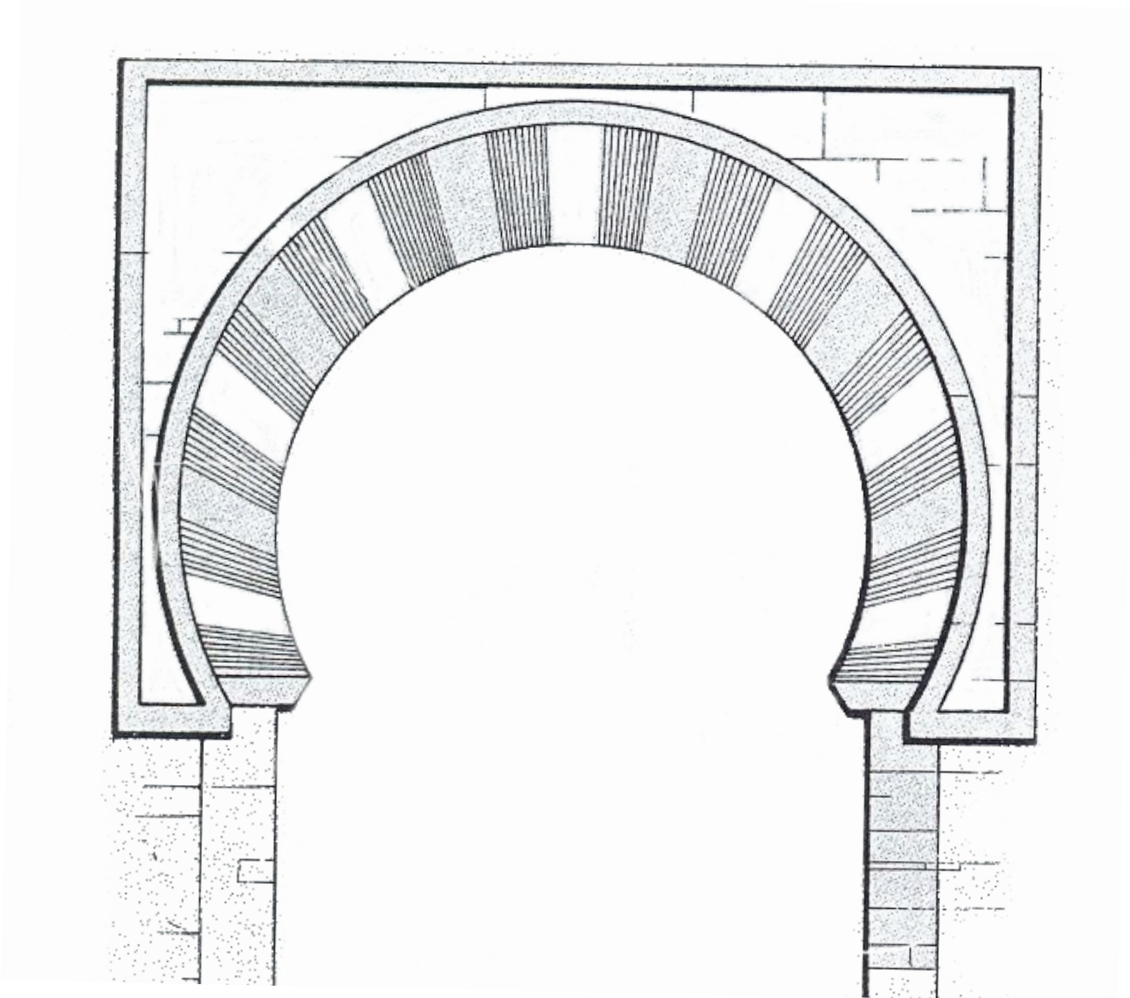


2. Identifica cada arco y escribe su nombre según corresponda:



3. Indica con la letra correspondiente el lugar que ocupan cada uno de estos términos en el siguiente arco:

- A. Jamba
- B. Dovela
- C. Clave
- D. Imposta
- E. Salmer
- F. Alfiz
- G. Albanega
- H. Luz
- I. Flecha
- J. Rosca



4. Identifica el orden de cada columna y escribe su nombre:

